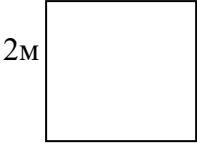
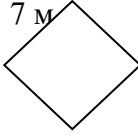
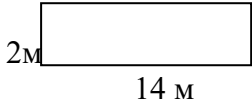

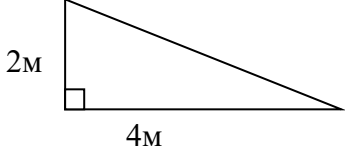
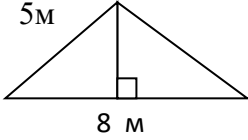
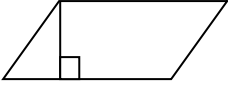
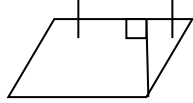
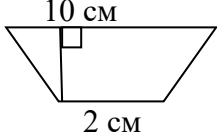
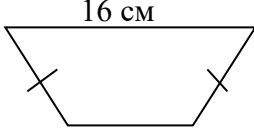
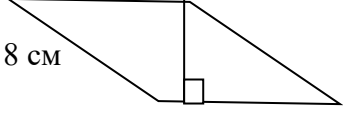
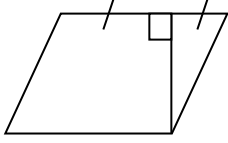
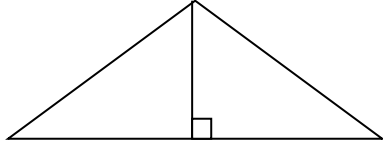
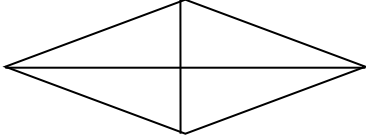


1 вариант		2 вариант	
Вычисли площадь квадрата			
№1		№1	
Вычисли площадь прямоугольника			
№2		№2	
Вычисли площадь треугольника			
№3		№3	
Вычисли площадь параллелограмма			
№4	 Высота 4 см, большая сторона 8 см.	№4	 Высота 4 см, меньшая сторона 5 см.
Вычисли площадь трапеции			
№5	 Высота трапеции 6 см.	№5	 Меньший угол трапеции 45° .
Вычисли площадь ромба			
№6	 Высота ромба 3 см.	№6	 10 дм
№7	 Высота треугольника 3 м	№7	 Диагонали ромба 10см и 8 см.

Ф.И. _____